

پراڈیشک ودیا پراڈھیکرن و ضلعی ادارہ برائے تربیت تعلیمی و مسلسل پیشہ وارانہ ترقی، امراتوٹی (شعبہ اردو)

تعلیمی ترقی یافتہ مہاراشٹر
آموزشی ماحصل پڑھنی سوال نامہ کا نمونہ

مجموعی قدر پیمائی۔ میقات دوم (۲۰۱۹ء تا ۲۰۱۸ء) جماعت: اول مضمون: ریاضی

طالب علم کا نام: رول نمبر:

مدرسہ کا نام: فریق:

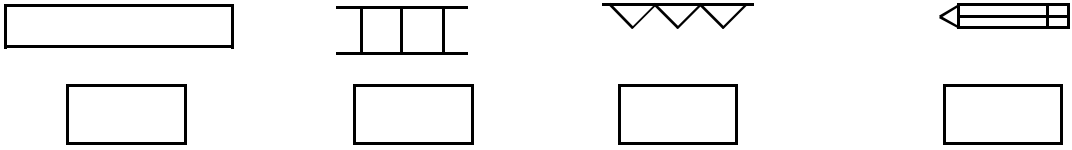
مرکز: تعلقہ: ضلع: تاریخ:

سوال نمبر	1	2	3	4	5	عملی/زبانی	کل	دستخط معلم
حاصل کردہ نمبرات								
مختص نمبرات	4	4	4	4	4	10	30	

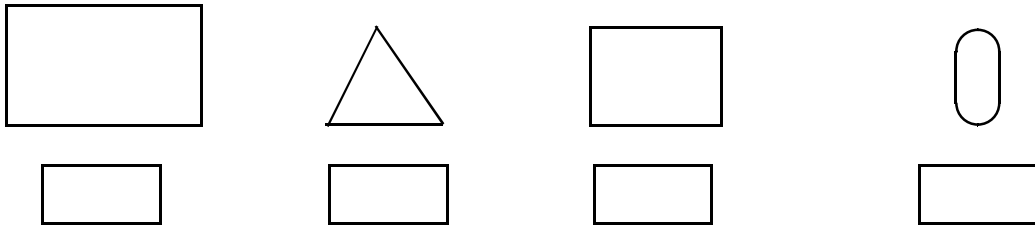
(ہر سوال کے لیے 1 نمبر دیا گیا ہے۔)

سوال نمبر ۱۔ ہدایت کے مطابق عمل کیجئے۔ صحیح متبادل کے سامنے ✓ کا اور غلط کے سامنے X کا نشان لگائیے۔

(الف) سب سے لمبی اور سب سے چھوٹی تصویر پہچانئے۔



(ب) چوڑی تصویر میں ✓ کا اور کم چوڑی تصویر میں X کا نشان لگائیے۔



(ج) ۶ چھ میں ۸ آٹھ جمع کرے تو کتنے ہوتے لکھئے :

۱۰ (۴)

۱۲ (۳)

۱۶ (۲)

۱۴ (۱)

(د) ترتیب وار عددوں کو دیکھ کر آگے آنے والا عدد خالی چوکوں میں لکھئے۔



۹ (۴)

۸ (۳)

۷ (۲)

۵ (۱)

سوال نمبر ۲۔ عددوں کی صحیح جوڑی پہچان کر دائرہ لگائیے۔ اور خالی جگہ پر کیجئے۔

(الف) مثال : $\boxed{۷, ۸}$ $\boxed{۱, ۲}$

۱۳ ، ۱۵ (۴)

۱۶ ، ۱۹ (۳)

۱۱ ، ۱۲ (۲)

۱۵ ، ۱۷ (۱)

(ب) تینیں اور آٹھ :

۴ ، ۸ (۴)

۳ ، ۸ (۳)

۱ ، ۸ (۲)

۲ ، ۸ (۱)

(ج) ۶۳ :

۴ ، ترسٹھ (۴)

۳ ، ترپن (۳)

۲ ، تینتیس (۲)

۱ ، تینتیس (۱)

(د) دس دہائی مل کر ہوتے ہیں۔

۲۰۰ (۴)

۲۰ (۳)

۱۰۰۰ (۲)

۱۰۰ (۱)

سوال نمبر ۳۔ ذیل سے صحیح جواب چن کر خالی چوکون میں لکھئے۔



(الف) ۱۱ موتیوں سے آگے ۴ موتی گنو

۱۴ (۴)

۱۷ (۳)

۱۲ (۲)

۱۵ (۱)

(ب) دیئے گئے عددوں میں سے کونسا عدد بڑا ہے۔ جواب کے گرد دائرہ لگائیے۔

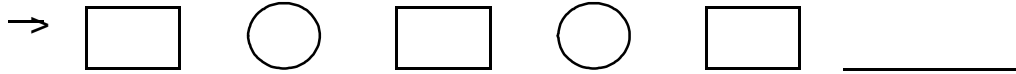
۵۱ (۴)

۱۵ (۳)

۸۱ (۲)

۱۸ (۱)

(ج) ترتیب وار مناسب تصویر پہچان کر جواب کے گرد دائرہ لگائیے۔



(د) دیئے گئے عددوں سے بننے والے عدد خالی جگہ میں لکھئے۔

(۱ ، ۲ ، ،)

۶۱ ، ۲۱ (۴)

۱۲ ، ۱۶ (۳)

۱۲ ، ۲۱ (۲)

۲۱ ، ۱۶ (۱)

سوال نمبر ۴۔ چوکون میں مناسب دن کا نام لکھئے۔

(الف) آج سینچر ہے۔ کل کون سا دن ہوگا؟

(ب) کل بدھ تھا۔ آج کو سا دن ہے؟

(ج) کل جمعہ ہوگا۔ کل کون سا دن تھا؟

(د) کل پیر تھا۔ کل کون سا دن ہوگا؟

سوال نمبر ۵۔ سوالات حل کیجئے۔

۸ (۴)

۹ (۳)

۸ (۲)

۱۴ (۱)

- ۵

- ۴

+ ۶

+ ۵

