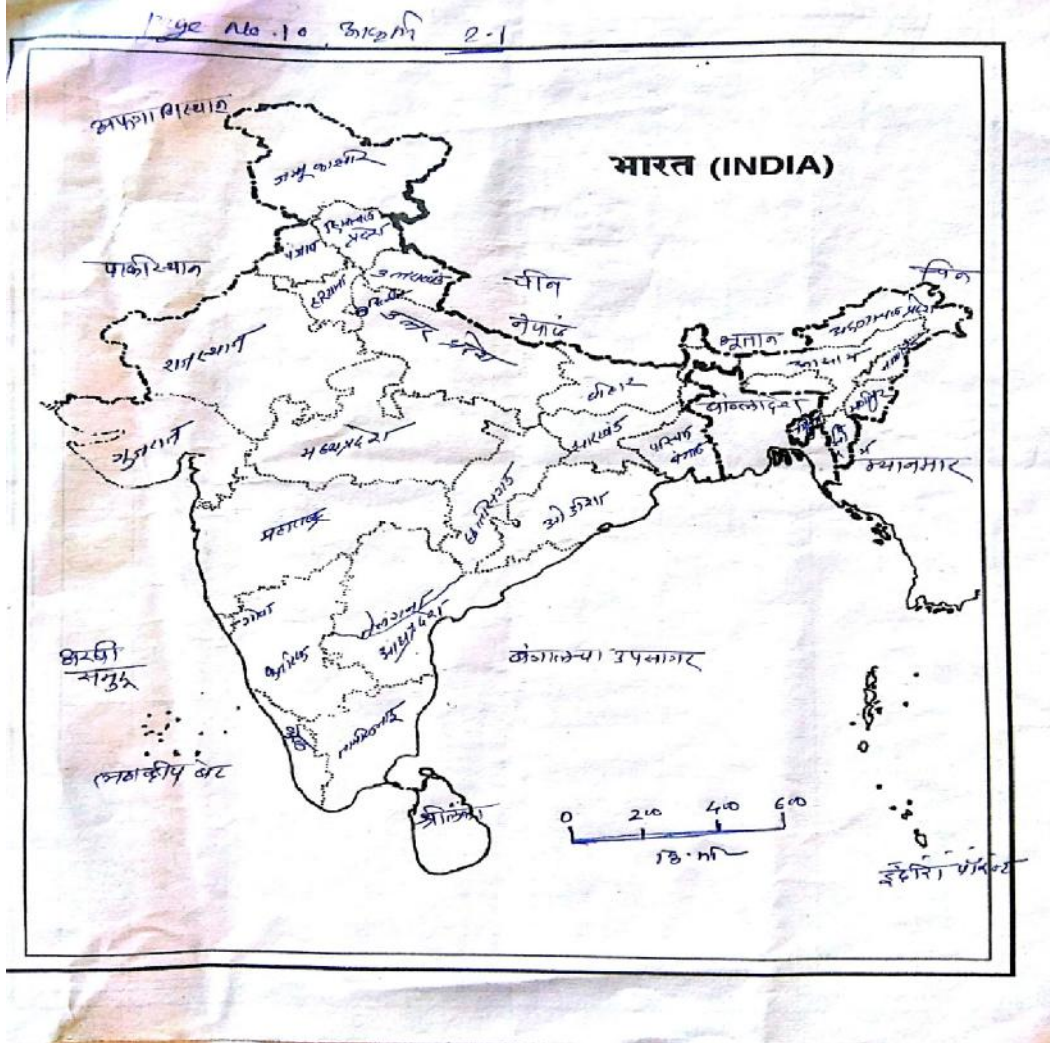


वर्ग १० वा

विषय :- भूगोल

क्षमता क्रमांक -१००१,१००२,१००३

विधाने :- विशिष्ट प्रदेशा विषयीच्या माहितीचे संकलन व भौगोलिक माहितीच्या आधारे किंवा त्याविषयीच्या विविध प्रश्न विचारता येणे.



प्र १ ला :- भारताच्या वायव्य दिशेला अफगणिस्तान व पाकिस्थान आहे तर भारताच्या ईशान्यला कोणते देश आहेत ?

१) श्रीलंका २) बांगलादेश ३) नेपाळ - भूतान ४) म्यानमार - बांगलादेश

प्र २ रा : - भारताचे दक्षिण कडील टोक "इंदिरा पॉईंट" हे कोणत्या सागरामध्ये आहे?

१) अरबी समुद्र २) बंगालचा उपसागर
३) हिंदी महासागर ४) पॅसिफिक महासागर

प्र ३ रा : - भारताच्या दक्षिणेकडील "बेट सदृश्य" देश कोणता ?

१) म्यानमार २) श्रीलंका ३) लक्षद्वीप ४) अंदमान निकोबार

प्र ४ था : - भारताची राजधानी नवी दिल्ली शहरापासून कोणत्या राज्याच्या राजधानीपासून किती दूरी आहे ?

१) हरियाणा, उत्तरप्रदेश, राजस्थान २) जम्मू काश्मिर, हिमालय पर्वत, पंजाब
३) बिहार, झारखंड, छत्तीसगड ४) केरळ, तामीळनाडू, कर्नाटक

प्र ५ वा : - सन २०१४ ते सन २०१७ या कालावधीत भारतामध्ये निर्माण झालेले

२९ वे घटक राज्य कोणते ?

१) आंध्रप्रदेश २) तामीळनाडू ३) तेलंगणा ४) पॉँडेचरी

प्र ६ वा : - भारताला एकंदरीत किती देशांच्या सीमा लाभलेल्या आहेत?

१) ७ २) ८ ३) ६ ४) ४

क्षमता क्रमांक - १००१, १००२, १००३

विधाने : - भौगोलिक माहितीच्या आधारे किंवा त्याविषयी विविध प्रश्न विचारता येणे



प्र १ ला :- ब्रा झील देशाच्या मुख्य दिशा व त्यांचे शेजारील देश दर्शविले आहे. दिशा व देश ओळखा

योग्य दर्शविलेली

अ. क्र	दिशा	शेजारचे देश
१	उत्तर	अ) गिरना
२	पश्चिम	ब) कोलंबिया
३	दक्षिण	क) पेरु
४	पूर्व	ड) व्हेने झुयला

१) अ २) अवब ३) क व ड ४) ड

प्र २ रा :- ब्रा झील या देशाचे नाव क णेत्या स्थानिक वृक्षावरून पडलेले आहे ?

१) पाऊब्रा झील २) रो झवूड ३) आर्किड ४) महोगनी

प्र ३ रा : - ब्रा झील मधील आकाराने सर्वात मोठी नदी कोणती ?

१) पॅराना नदी २) साओ प्रान्सिको ३) पॅराग्वे नदी ४) अॅमे झाने नदी

प्र ४ था : - भारत व ब्रा झील या दोन्ही देशांमध्ये प्रत्येकी किती राज्य आहेत?

१) ३० - ३० २) २९, २७ ३) २८ - ३० ४) २७ - २८

प्र ५ वा : - अॅमे झानचा प्रदेश विरळ लोकवस्तीचा आहे कारण -----

१) हा प्रदेश दुर्गम आहे २) पर्जन्यमान कमी आहे
३) वनाचे प्रमाण जास्त आहे ४) हा प्रदेश दलदलीचा आहे.

क्षमता क्रमांक - १००२

विधाने : - भौगोलिक माहितीच्या आधारे किंवा त्या विषयी विविध प्रश्न विचारता येणे

प्र १ ला : - भारताच्या पश्चिम दिशेला लूनी नदीच्या आसपास असणारा पर्वत कोणता ?

१) विंध्यपर्वत २) सातपूडा पर्वत ३) अरवली पर्वत ४) सहयाद्री पर्वत

प्र २ रा : - भारतातील दोन राज्यांची राजधानी एकच असून ते सु - निया जेन शहर कोणते ?

१) सिमला २) चंदीगड ३) डेहराडून ४) जरपूर

प्र ३ रा : - अरबी समुद्र किनारी असलेले भारताचे आर्थिक राजधानी असणारे शहर कोणते ?

१) ठाणे २) पुणे ३) मुंबई ४) दिल्ली

प्र ४ था : - दक्षिण अमेरीका खंडातील कॉफी उत्पादनात व फुटबॉल खेळ लोकप्रिय असणारा

देश कोणता ?

१) ब्रा झील २) व्हेनेक झूएला ३) चीली ४) अर्जेन्टिना

प्र ५ वा : - भारतातील "दक्षिण गंगा" म्हणून खालीलपैकी कोणती नदी प्रसिद्ध आहे?

- १) भीमा २) कृष्णा ३) गोदावरी ४) गंगा

प्र ६ वा : - भारत या देशाला पूर्व व पश्चिम दिशेने समुद्र किनारा लाभला आहे. त्या किनाऱ्याची

एकंदर लांबी किती?

- १) ६५०० km २) ७५०० km ३) ८५०० km ४) ५५०० km

प्र ७ वा : - सिंधू नदीला मिळणाऱ्या - या उपनद्याचा खालील कोणता गट योग्य आहे?

- १) गोमती - घागरा, कोसी, गंडक २) सतलज - रावी - चिनाब - बियास
३) भीमा - शोन - मांजरा - पंच गंगा ४) वैनगंगा - तापी - लूनी - शोन

क्षमता क्रमांक - १००८

विधाने : - प्रदेशासंदर्भाने भौगोलिक अनुमाने व अंदाज करण्यासाठी

माहितीचे संकलन करता येणे .

प्र १ ला : - पृथ्वीवरील समशितोष्ण कटीबंधीय प्रदेश कोणत्या वृत्ताच्या दरम्यान आहे?

- 1) 0° ते 1° 2) 23° ते 66°
2 2 2

- 3) 66° ते 90° 4) 23° ते 45°
2 2

प्र २ रा : - भारताची प्रमाणवेळ कोणत्या रेखावृत्तानुसार दर्शविली जाते?

- 1) 80° पश्चिम 2) 82° पूर्व
2
3) 82° पश्चिम 4) 80° पूर्व

प्र ३ रा : - चेरापूंजी आणि मौसिनराम हे जगातील सर्वात जास्त पाऊस पडण्याचे ठिकाण

कोणत्या देशात आहे ?

- १) ब्राझील २) नेपाळ ३) बांगलादेश ४) भारत

प्र ४ था : - भारतातील सर्वाधिक कोरडा भाग या ठिकाणी आहे?

- १) पूर्व राजस्थान २) पश्चिम राजस्थान
३) पूर्व गुजरात ४) पश्चिम महाराष्ट्र

क्षमता क्रमांक :- १०, १०, १०, ११, १०, १२

विधाने - वेगवेगळ्या प्रणाली मधील संबंधाबाबत भाष्य करता येणे

प्र १ ला : - भारतात ज्या भागात दिर्घकाळ कोरडा उन्हाळा व ५०० मी.मी. पेक्षा कमी पर्जन्य होतो

अश्या प्रदेशात कशा प्रकारची वने निर्माण होते?

- १) काटेरी व झुडपे २) सदाहरीत वने ३) पान झाडी वने ४) हिमालयीन वने

प्र २ रा : - समुद्रकाठी किंवा दलदलीच्या प्रदेशात क्षारयुक्त मृदा व दमट हवामान असते.

अश्या प्रदेशात कोणत्या प्रकारची वने आढळतात.

- १) खारफुटीची वने २) सुचीपर्णी ३) सदाहरीत वने ४) समुद्र काठची वने

प्र ३ रा : - भारतातील ब्राझील मधील कोणत्या वनामध्ये सारखेपणा आढळतो ?

- १) सदाहरीत वने २) पान झाडीचे वने ३) काटेरी झुडपे वने ४) विषुववृत्तीय वने

प्र ४ था :- भारतातील आसाम हे राज्य चहा उत्पादनात अग्रेसर असून तसेच या राज्यात

वैशिष्यपूर्ण आढळणारा प्राणी कोणता?

- १) गवा २) याक ३) एकसिंगी गेंडा ४) उंट

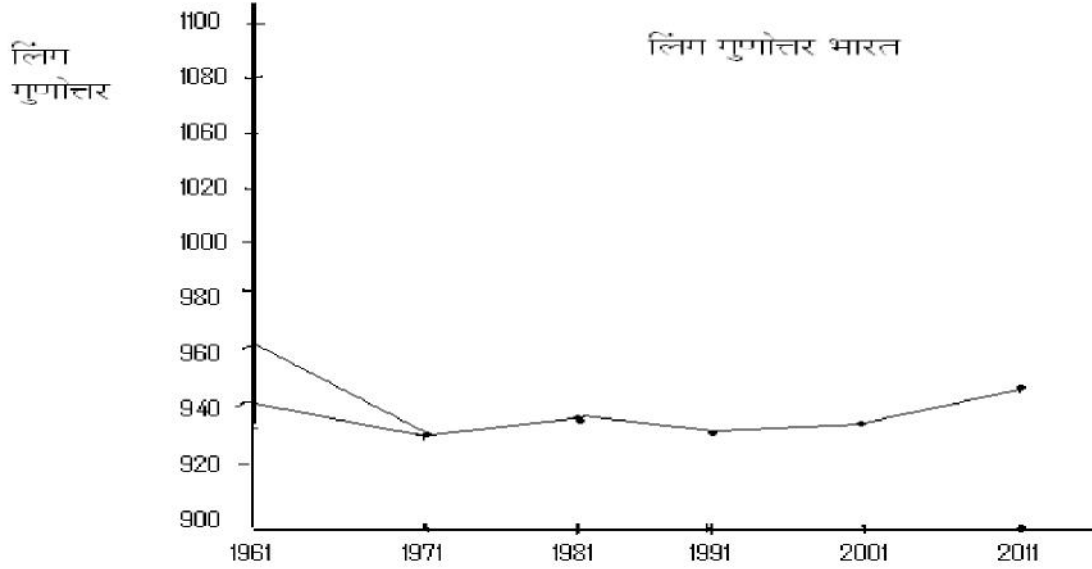
प्र ५ वा :- ब्राझील मधील वनामध्ये खालीलपैकी वेगळा घटक असणारा वन्य प्राणी कोणता?

- १) वाघ २) सिंह ३) अँनाकोडां ४) लाल पांडा

क्षमता क्रमांक :- १०१३

विधान - लोकसंख्या या बाबीचे मापन करता येणे व त्यातील वाढ तपासता येणे

Page no ४० आकृती ६३ लोकसंख्येचे गुणोत्तर (भारत)



प्र १ ला :- 1961 साली भारतात लिंग गुणोत्तर सर्वाधिक किती आहे

1) 1080, 2) 940, 3) 1040 4) 920

प्र २ रा: - 1961 ते 1971 या दशकात लिंगगुणोत्तरात किती % वाढ झाली आहे.

१) 40 % 2) 10 % 3) 15 % 4) 20 %

प्र ३ रा: - या 'मुलगी वाचवा' मुलगी शिकवा' हे ब्रीद खालील कोणत्या घटनेशी जुळते आहे.

- १) भारतात मुलीची संख्या मुलाच्या संख्येपेक्षा जास्त आहे.
- २) मुलीची संख्या व मुलाची संख्या सम आहे.
- ३) मुलापेक्षा भारतात मुलीची संख्या अधिक आहे.
- ४) मुलापेक्षा भारतात मुलीची संख्या कमी आहे.

प्र ४ था: - वरील आलेखावरून सर्वाधिक लिंगगुणोत्तर कोणत्या दशकात वाढलेले दिसते.

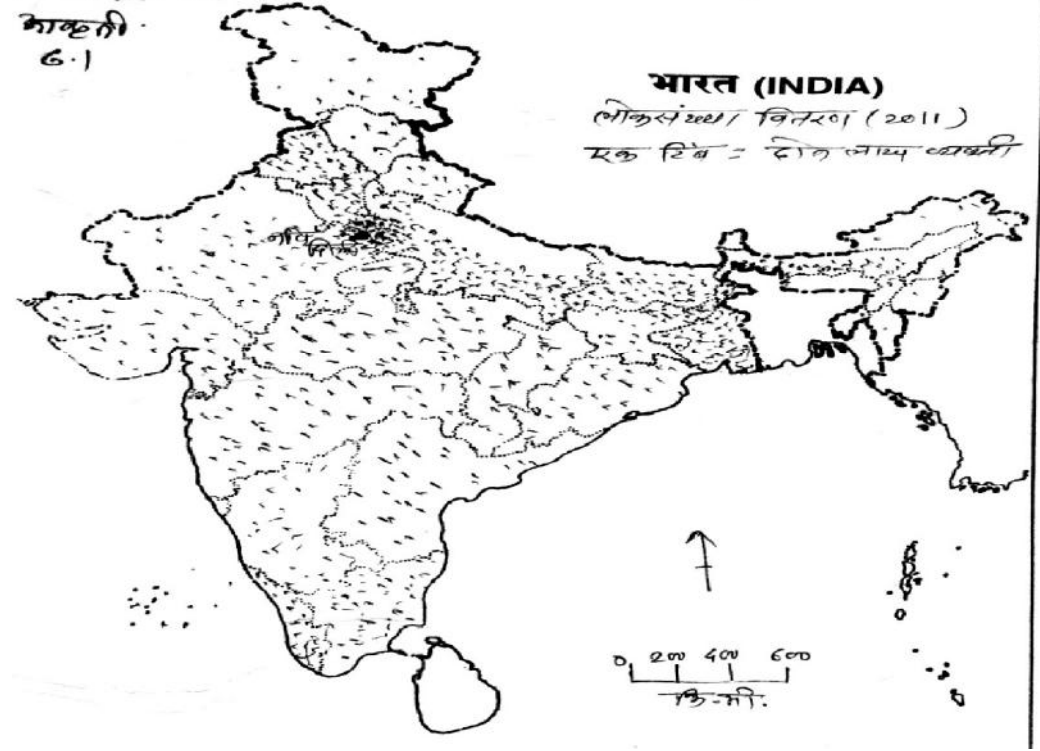
1) 1991 2) 2001 3) 2011 4) 1971

क्षमता क्रमांक - १०१४

विधाने: - " लोकसंख्या " या बाबीचे मापन करता येणे व त्यातील क ल

(Trends) तपासता येणे.

पेज क्र. ३४
भा.क्र. ६.१

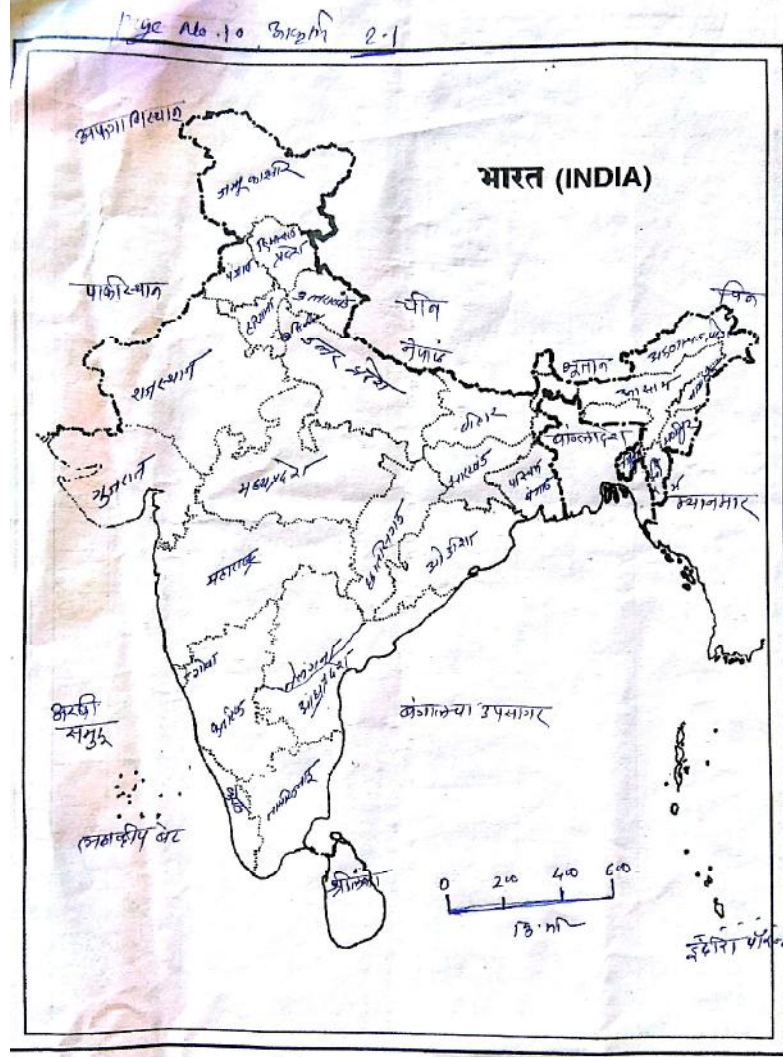


प्र १ ला : - भारताच्या नकाशात कोणत्या भागात लोकसंख्या केंद्रीत झाली आहे ?

१) पूर्व २) पश्चिम ३) उत्तर - मध्य ४) दक्षिण

प्र २ रा : - दिलेल्या भारताच्या नकाशात सर्वात कमी लोकसंख्येची घनता असलेले प्रदेश कोणते?

१) जम्मू, काश्मिर, अरुणाचल प्रदेश २) उत्तरप्रदेश, पश्चिम बंगाल
३) तामीळनाडू, तेल गंगा ४) राजस्थान - गुजरात



प्र ३ रा : - उत्तर भारतामध्ये लोकसंख्या जास्त असण्याचे कारण काय असेल?

- १) सुपीक जमीन
- २) जलसिंचनाची सुविधा
- ३) रोजगाराची उपलब्धता
- ४) स्थलांतर

प्र ४ था : - दिलेल्या नकाशातील "नवी दिल्ली" या ठिकाणची लोकसंख्या कशा प्रकारची आहे?

- १) विरळ
- २) मध्यम
- ३) दाट
- ४) अतिदाट

प्र ५ वा : - दिलेला भारताचा नकाशा कशा स्वरूपाचा आहे?

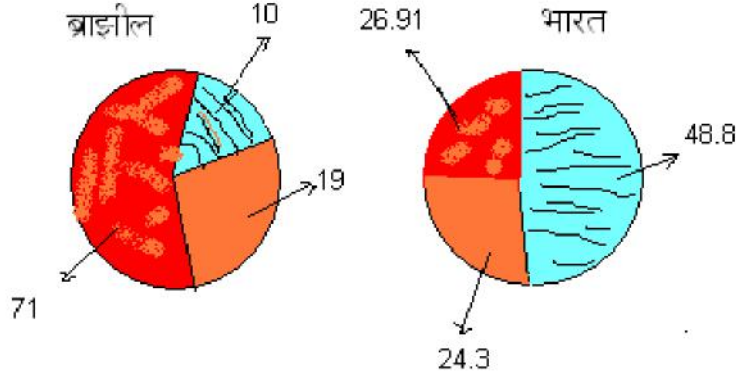
- १) क्षेत्रघनी पध्दती
- २) समधनी पध्दती
- ३) टिंब पध्दती
- ४) पर्जन्य मापक पध्दती

क्षमता क्रमांक - १०१४

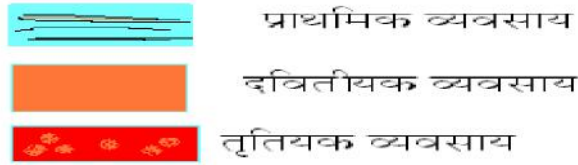
विधाने: - लोकसंख्या या बाबीचे मापन करता येणे व त्यातील कल
तपासता येते.

(Trends)

व्यवसायात कार्यरत असणा - या लोकसंख्येची टक्केवारी (२०१६)



सूची: -



प्र १ ला: - ब्राझील मध्ये प्राथमिक व्यवसायात गुंतलेल्या लोकसंख्येची टक्केवारी किती ?

- १) २६.९% २) ७१% ३) १०% ४) ४८.८%

प्र २ रा: - तृतीयक व्यवसायामध्ये गुंतलेल्या लोकसंख्येची टक्केवारी कोणत्या देशात जास्त

आहे ?

- १) भारत २) ब्राझील ३) श्रीलंका ४) भारत, ब्राझील

प्र ३ रा: - भारतातील द्वितीयक व्यवसायातील टक्केवारी पेक्षा प्राथमिक व्यवसायात असणा

- या

टक्केवारीचे प्रमाण किती ?

- १) ४८.१८% २) २४.३% ३) २६.९% ४) १०%

प्र ४ था : - भारत या देशातील द्वितीयक व्यवसायात असणा - या लोकसंख्येचे टक्केवारीचे

प्रमाण ब्रा झील पेक्षा किती टक्क्यांनी जास्त आहे?

- १) १९.% २) २६.९% ३) ५.३% ४) ४३.३%

क्षमता क्रमांक - १०२०

विधाने : - पर्यावरणात बदल केल्यामुळे काही ठिकाणी विकास तर काही

ठिकाणी समस्या निर्माण होतात हे सांगता येणे .

प्र १ ला : - भारतातील अमरावती, वर्धा, यवतमाळ येथे प्रचंड कापसाचे उत्पादन होवूनही

कापड गिरण्या मुंबई येथे स्थापन झाल्यात .

- १) मुंबई येथे अरबी समुद्र किनारा लाभला
 २) मुंबई येथील लोकांजवळ कारखाने उभारण्यास मोठे भांडवल आहे.
 ३) मुंबई येथील हवामान दमट आहे.
 ४) अमरावती, वर्धा, यवतमाळ येथील हवामान उष्ण व दमट आहे.

प्र २ रा : - पशू पक्षी हे कळपाने राहतात तसेच मनुष्य सुध्दा समूहाने राहतो. मनुष्य ज्या

ठिकाणी

राहतो. मनुष्य ज्या ठिकाणी समूहाने राहतो. त्या ठिकाणास काय म्हणतात.

- १) घर २) शहर ३) वस्ती ४) गाव

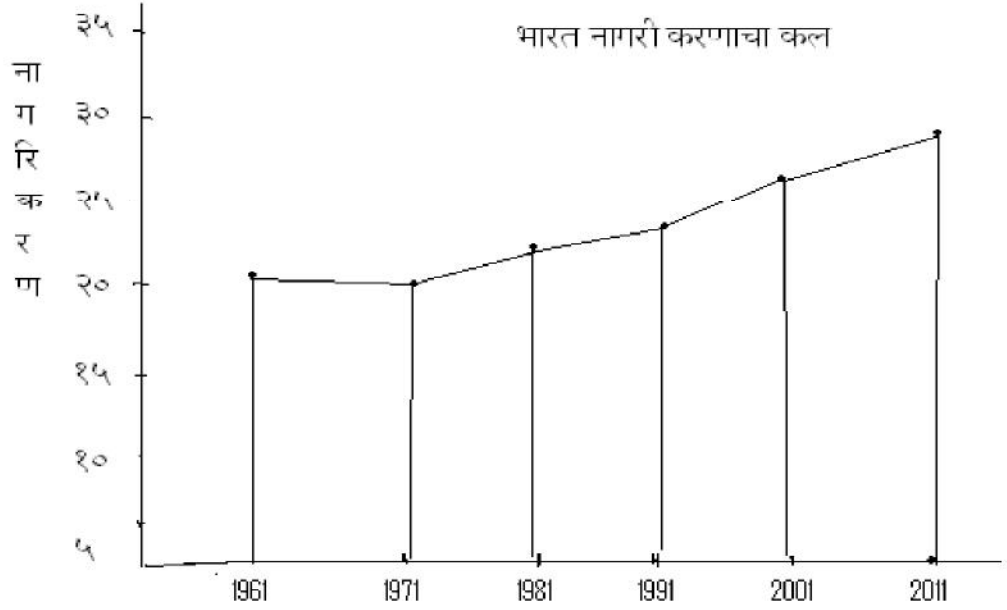
प्र ३ रा : - मानवी वस्त्या नद्यांच्या किंवा समुद्राच्या उंच काठावर वसलेल्या आढळतात.

कारण

- १) त्या ठिकाणचे हवामान थंड व चांगले असल्यामुळे
 २) नदीच्या पाण्याचा पुराचा धोका टाळण्यासाठी
 ३) तेथील जमीन शेतीयोग्य असून तेथे पाण्याची उपलब्धता असल्यामुळे
 ४) नदीच्या प्रदेशात निसर्ग सौंदर्याचा आनंद मिळवण्यासाठी.

प्र ४ था : - मुंबई येथे लोकसंख्या केंद्रित झाली आहे कारण ----

- १) अरबी समुद्र व किनार पट्टीमुळे तेथील वातावरण नयनरम्य आहे.
- २) मुंबईला देशाची आर्थिक राजधानी म्हणतात.
- ३) मुंबईला चित्रपट नगरी म्हणतात.
- ४) मुंबईला प्रचंड औद्योगिक कारखाने व अनेक रोजगाराच्या संधी उपलब्धी आहेत.



प्र ५ वा : - दिलेल्या आलेखा वरून भारतातील नागरीकरणाचा कल २०११ मध्ये किती % होता?

- १) २३.३%
- २) २५.०७
- ३) २७.८
- ४) ३१. २

प्र ६ वा : - दिलेल्या नकाशा मध्ये भारतातील नागरीकरणामध्ये सन १९८१ ते २००१ च्या दरम्यान लोकसंख्येचा फरक किती?

- १) ४.५
- २) ५.५
- ३) ७.५
- ४) ७.८

प्र ७ वा : - राजस्थानच्या पूर्व भागापेक्षा पश्चिम भागात मानवी वस्तीचा कोणता प्रकार

आढळता?

- १) केंद्रीत वस्ती २) रेषाकृती वस्ती ३) विखुरलेली वस्ती ४) विरळ वस्ती

क्षमता क्रमांक - १०२५, २६, २७

विधाने : - आर्थिक परस्परवलंबित्वाचे आकृतिबंध व आंतर जोड ओळखता येणे.

प्रश्ना : - भारतात विनिमयाचे साधन रुपया आहे तर ब्रा झीलमध्ये विनिमयाचे साधन
कोणते?

- १) डॉलर २) रुपी ३) युरो ४) टका

प्रश्ना : - अमेरिकामध्ये भांडवलशाही अर्थव्यवस्था, रशियामध्ये साम्यवादी अर्थव्यवस्था आहे,
तर भारत या देशात कोणती अर्थव्यवस्था आहे?

- १) साम्यवादी २) भांडवलशाही
३) साम्यवादी व भांडवलशाही ४) मिश्र अर्थव्यवस्था

प्रश्ना : - भारतामध्ये खनिजांचे भांडार म्हणून ओळखला जाणारा प्रदेश कोणता?

- १) दख्खनचे पठार २) छोटा नागपूरचे पठार
३) तेलंगण पठार ४) माळवा पठार

प्रश्ना : - भारतातील आंध्रप्रदेशात कडप्पा या दगडाच्या खाणी आहे तर राजस्थानमध्ये
कोणत्या प्रकारच्या खडक मोठ्या प्रमाणावर आढळतो ?

- १) संगमरवर २) ग्रॅनाईट ३) पट्टीनास ४) बेसाल्ट

प्रश्ना : - निवासाची व जेवणाची सोय करणे हा व्यवसाय कोणत्या व्यवसाय गटात मोडतो?

- १) प्राथमिक २) द्वितीयक ३) तृतीयक ४) चतुर्थ

प्रश्ना : - ब्रा झील या देशात मोठ्या उद्योगाचे केंद्रिकरण कोणत्या भागात झाले आहे ?

- १) उत्तर व आग्नेय भागात २) दक्षिण व ईशान्य भागात
 ३) दक्षिण व आग्नेय भागात ४) दक्षिण व उत्तर भागात

प्र ७ वा : - सर्व भारतभर एकच कर प्रणाली (G S T) असावी ही योजना भारतात केव्हा

पासून सुरुवात झाली?

- १) २०१६ २) १९८४ ३) २०१७ ४) २०१८

क्षमता क्रमांक - १०२८ , २९, ३०

विधाने : - एखादा प्रदेश कोणत्या कारणामुळे वेगळा दिसून येतो हे शोधतो येणे

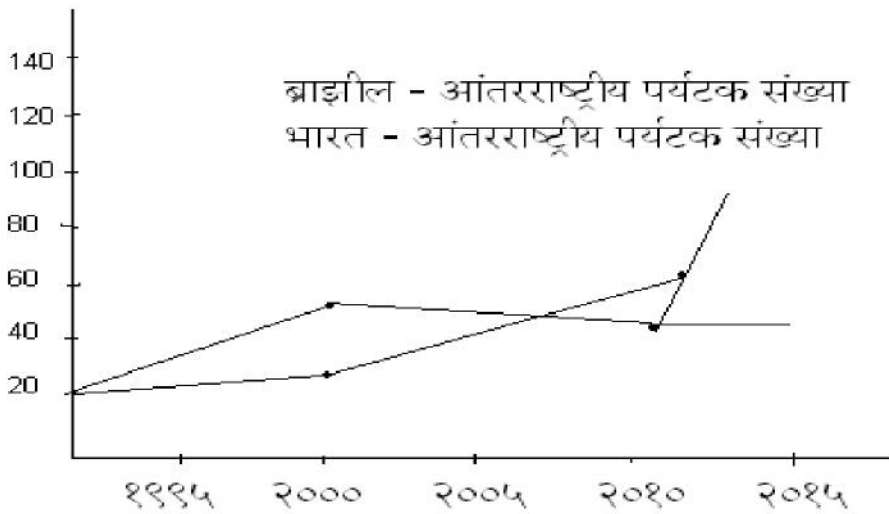
प्र १ ला : - जागतिक आंतरराष्ट्रीय व्यापार हा सर्वात जास्त कोणत्या मार्गांनी होतो ?

- १) भूमार्ग २) वायुमार्ग ३) जलमार्ग ४) नळमार्ग

प्र २ रा : - ब्राझीलमध्ये "ब्राझीलियन" अवकाश एजन्सी" तर्फे अवकाश संशोधनाचा कार्यक्रम

राबवला जातो तर भारतात कोणत्या संस्थेमार्फत संशोधन कार्यक्रम राबवला जातो?

आलेख टाकणे आहे.



प्र ३ रा : - वरील आकृतीतील आलेखाचा कोणता प्रकार आहे ?

१) स्तंभालेख २) रेषालेख ३) संयुक्त स्तंभालेख ४) वर्तुळालेख

प्र ४ था : - वरील आलेखा वरुन १९९५ साली भारत व ब्रा
इलील देशात किती लाख पर्यटक
आलेत?

प्र ५ वा : - वरील आलेखा वरुन कोणत्या साली पर्यटकांची संख्या वाढलेली दिसते ?

१) २०१५ २) २०१० ३) २००५ ४) २०२०

क्षामता क्रमांक - १०३२,१०३३

विधाने : - इतर प्रदेशाच्या संदर्भाने एखादया विशिष्ट प्रदेशाबद्दल प्रश्न तयार करता येणे

भौगोलिक साधनांचा वापर प्रश्नांची उत्तरे मिळवण्यासाठी करता येणे.

प्र १ ला : - क्षेत्रभेटीमुळे भूगोल विषयाचे अध्ययन कोणत्या स्वरूपात करता येते?

१) मुर्त २) अमूर्त ३) मुर्त व दृश्य स्वरूपात ४) अमूर्त दृश्य स्वरूपात

प्र २ रा : - धाब्याची घरे कोठे आढळतात.

१) खोडयात २) शहरात ३) कोकणात ४) औदयोगिक

प्र ३ रा : - लोकसंख्येची घनता साधारणतहा जास्त कोठे आढळते ?

१) ग्रामीण भागात २) शहरी भागात ३) वाळवंटी भागात ४) डोंगराळ भागात

प्र ४ था : - नळदुर्ग सोडल्यानंतर पावसाचे प्रमाण कसे दिसते ?

१) हलक्या स्वरूपाचा २) मध्यम स्वरूपाचा

३) जास्त स्वरूपाचा ४) अति जास्त स्वरूपाचा

प्र ५ वा : - उजनी धरण कोणत्या नदीवर बांधल आहे ?

१) भीमा २) कृष्णा ३) कावेरी ४) गोदावरी

प्र ६ वा : - सिंहाडच्या परिसरात तुम्ही फिरलात तर या ठिकाणी कोणते खडक आढळते?

- १) स्तरीत खडक
२) बेसाल्ट खडक
३) अग्निजन्य, बेसाल्ट खडक
४) रुपांतरीत

प्र ७ वा : - "उल्हास" या पश्चिम वाहिनी नदीच उगमस्थान कोणत्या पर्वतात आहे?

- १) अरवली पर्वतात
२) सह्याद्री पर्वतात
३) हिमालय पर्वतात
४) विंध्य पर्वतात

प्र ८ वा : - समुद्र किनाऱ्यावर आपण फिरत असतांना आपणास खूप घाम येतो कारण ----

- १) त्या ठिकाणचे हवामान थंड असते. २) त्या ठिकाणचे हवामान आर्द्र आहे.
३) त्या ठिकाणचे हवामान उष्ण आहे. ४) त्या ठिकाणचे हवामान दमट न आर्द्र आहे.

प्र ९ वा : - ग्रामीण भागात रस्त्या लागतच्या वस्त्या एका ओळीमध्ये असतात व घराच्या भिंती

दगड मातीच्या असतात अशा वस्त्यांना आपण कोणत्या वस्त्या म्हणतो?

- १) वर्तुळाकार वस्त्या २) रेषाकृती वस्त्या ३) ग्रामीण वस्त्या ४) शहरी वस्त्या

प्र १० वा : - "नळदुर्ग" हा किल्ला महाराष्ट्रातील कोणत्या जिल्ह्यात येतो?

- १) सांगली २) बीड ३) उस्मानाबाद ४) लातूर

प्र ११ वा : - मासेमारी व शेती हे व्यवसाय कोणत्या व्यवसाय प्रकारामध्ये मोडले जाते?

- १) प्राथमिक २) द्वितीयक ३) तृतीयक ४) चतुर्थक

प्र १२ वा : - क्षेत्रभेट म्हणजे कोणत्या दृष्टीकोनातून केलेली सहूल होय ?

- १) मनोरंजनाचा २) शैक्षणिक ३) औद्योगिक ४) फेरफटका मारणाऱ्या